

**MODELO 3 (CASTELLANO)**

**CASO PRÁCTICO**

El consejero de Agricultura, Pesca y Medio Natural tiene sesión en el Parlamento de las Illes Balears, por lo que el señor X, mecánico conductor personal del consejero, debe acompañarlo junto a unos cuantos miembros de su gabinete.

El señor X recoge al jefe de gabinete en la sede de la Consejería de Agricultura, Pesca y Medio Natural y se dirigen hacia el Fondo de Garantía Agraria y Pesquera de las Illes Balears (FOGAIBA), ubicado en Palma, a recoger al secretario general de la Consejería, que se encuentra allí porque tenía que despachar unos asuntos con el director gerente.

Una vez recogido el secretario general, se dirigen hasta el aeropuerto de Son Sant Joan para buscar al consejero de Agricultura, Pesca y Medio Natural, que regresa de un acto en Menorca. Recogido el consejero, se dirigen hasta la sede del Parlamento.

Finalizada la sesión en el Parlamento, vuelven a la sede de la Consejería de Agricultura, Pesca y Medio Natural, y el señor X deja aquí estacionado el vehículo. De esta forma, finaliza su jornada laboral.

**Responda las preguntas que hay a continuación.**

PREGUNTA 1 (1 PUNTO)

- a) ¿Cuál es la ubicación de la sede de la Consejería de Agricultura, Pesca y Medio Natural?
- b) ¿Cuál es la ubicación del FOGAIBA?

PREGUNTA 2 (1 PUNTO)

¿Dónde debe estacionar el vehículo el señor X en el aeropuerto de Son Sant Joan?

PREGUNTA 3 (1 PUNTO)

Una vez recogido el consejero, ¿dónde deben sentarse cada uno de los ocupantes del vehículo siguiendo estrictamente el orden protocolario?

PREGUNTA 4 (1 PUNTO)

¿Cuál es la ruta más rápida que puede realizar el señor X desde la sede de la Consejería de Agricultura, Pesca y Medio Natural (punto de origen) hasta el Parlamento (punto de destino), pasando por el FOGAIBA y por el aeropuerto de Son Sant Joan, teniendo en cuenta un día de tráfico fluido? Indique hitos kilométricos y velocidades máximas.

PREGUNTA 5 (1 PUNTO)

Una vez estacionado el vehículo en la sede de la Consejería de Agricultura, Pesca y Medio Natural, ¿qué debe tener en cuenta el señor X para que el vehículo esté en perfectas condiciones de uso para la jornada siguiente?



PREGUNTA 6 (1 PUNTO)

a) ¿Qué documentación debe llevar siempre consigo, así como dentro del vehículo, un mecánico conductor al servicio de la Comunidad Autónoma de las Illes Balears?




b) Ante un accidente de circulación, ¿qué responsabilidades civiles y penales tendrá el conductor de un vehículo público?

PREGUNTA 7 (1 PUNTO)

Observe las imágenes que hay a continuación e indique en el recuadro vacío el significado de las señales y las órdenes de los agentes de la autoridad encargados de la vigilancia del tráfico según el Real decreto 1428/2003, de 21 de noviembre, por el que se aprueba el Reglamento general de circulación para la aplicación y desarrollo del texto articulado de la Ley sobre tráfico, circulación de vehículos a motor y seguridad vial, aprobado por el Real decreto legislativo 339/1990, de 2 de marzo.

 <p><b>Brazo levantado verticalmente</b></p>	
 <p><b>Brazo o brazos extendidos horizontalmente</b></p>	



 <p><b><i>Balanceo de una luz roja o amarilla</i></b></p>	
 <p><b><i>Brazo extendido moviéndolo alternativamente de arriba a abajo</i></b></p>	
 <p><b><i>Señales hechas con silbato</i></b></p>	

PREGUNTA 8 (1 PUNTO)

- a) ¿Qué factores pueden influir en las aptitudes de un conductor?
- b) ¿Qué efectos pueden generar en la conducción estos factores?
- c) ¿Qué es la fatiga crónica?

PREGUNTA 9 (1 PUNTO)

Con referencia a la actitud de un mecánico conductor al servicio de la Comunidad Autónoma de las Illes Balears, ¿qué medidas debe adoptar para garantizar la seguridad durante la conducción?

PREGUNTA 10 (1 PUNTO)

Especifique qué significan cada uno de los números y las letras que aparecen en la imagen siguiente de un neumático:



185:

---

70:

---

R:

---

13:

---

86:

---

H:

---