

**MODEL 2 (CATALÀ)**

**CAS PRÀCTIC**

El conseller d'Agricultura, Pesca i Medi Natural té multitud d'actes a causa de la naturalesa de les seves responsabilitats i del seu nivell de representació institucional. El senyor X, mecànic conductor personal del conseller, ha de realitzar els serveis següents:

En primer lloc, ha de desplaçar-se fins a l'aeroport de Son Sant Joan per a recollir el conseller, que arriba d'un vol procedent de Madrid.

Abans de sortir de la seu de la Conselleria d'Agricultura, Pesca i Medi Natural en direcció a l'aeroport, el senyor X recull el director general de Pesca i el cap del Gabinet de la Conselleria d'Agricultura, Pesca i Medi Natural.

Una vegada recollit el conseller a l'aeroport, es dirigeixen fins a l'Espai Francesc Quetglas per la inauguració d'un cicle de conferències sobre la prevenció i el control de la salmonel·la a les granges.

Finalitzat l'acte a l'Espai Francesc Quetglas, el conseller ha de visitar el centre d'informació forestal del paratge natural de la serra de Tramuntana, ubicat al Centre Forestal de Menut (CEFOR), per la qual cosa el senyor X es dirigeix cap a allà transportant únicament el conseller.

Conclou la visita, tornen a la seu de la Conselleria d'Agricultura, Pesca i Medi Natural, però abans s'aturen a l'Institut Balear de la Natura (IBANAT), ja que el conseller hi vol despatxar uns assumptes amb el director gerent.

De tornada a la seu de la Conselleria, el senyor X deixa aquí estacionat el vehicle. D'aquesta manera, finalitza la seva jornada laboral.

**Contestau les preguntes que hi ha a continuació.**

PREGUNTA 1 (1 PUNT)

On ha d'estacionar el vehicle el senyor X a l'aeroport de Son Sant Joan?

PREGUNTA 2 (1 PUNT)

Una vegada recollit el conseller a l'aeroport, on han d'asseure's cadascun dels ocupants del vehicle seguint estrictament l'ordre protocol·lari?

## EXAMEN 2 CAUXF MECÀNICA I CONDUCCIÓ

### PREGUNTA 3 (1 PUNT)

- a) Quina és la ubicació de l'Espai Francesc Quetglas?
- b) Quin és el trajecte més ràpid fins a l'Espai Francesc Quetglas partint de l'aeroport de Son Sant Joan, tenint en compte un dia de trànsit fluid? Indica la ruta i la velocitat màxima a què es pot circular.

### PREGUNTA 4 (1 PUNT)

- a) Quina és la ruta més ràpida que pot fer el senyor X des de l'Espai Francesc Quetglas fins al Centre Forestal de Menut (CEFOR), tenint en compte un dia de trànsit fluid? Indica fites quilomètriques i velocitats màximes.
- b) Quina és la ubicació de l'IBANAT?

### PREGUNTA 5 (1 PUNT)





Una vegada estacionat el vehicle a la seu de la Conselleria d'Agricultura, Pesca i Medi Natural, què ha de tenir en compte el senyor X perquè el vehicle estigui en perfectes condicions d'ús per a la jornada següent?


### PREGUNTA 6 (1 PUNT)

- a) Què ha de fer un mecànic conductor al servei de la Comunitat Autònoma de les Illes Balears si observa que el vehicle que té assignat desprèn un fum molt negre?
- b) A què pot ser degut aquest fum?

PREGUNTA 7 (1 PUNT)

Observau les imatges que hi ha a continuació i indicau al requadre buit el significat dels senyals i les ordres dels agents de l'autoritat encarregats de la vigilància del trànsit segons el Reial decret 1428/2003, de 21 de novembre, pel qual s'aprova el Reglament general de circulació per a l'aplicació i el desplegament del text articulat de la Llei sobre trànsit, circulació de vehicles de motor i seguretat viària, aprovat pel Reial decret legislatiu 339/1990, de 2 de març.

 <b>Bandera vermella</b>	
 <b>Bandera verda</b>	
 <b>Bandera groga</b>	
 <b>Braç estès cap avall inclinat i fix</b>	



PREGUNTA 8 (1 PUNT)

- Quins factors poden influir en les aptituds d'un conductor?
- Quins efectes poden generar en la conducció aquests factors?
- Què és la fatiga crònica?

PREGUNTA 9 (1 PUNT)

Quines precaucions s'han de prendre per a reduir al mínim els riscos associats en cas de conducció amb les següents condicions climatològiques adverses?:

- neu
- gel
- vent
- pluja
- boira

PREGUNTA 10 (1 PUNT)

En el garatge de la Direcció General de Mobilitat hi ha un automòbil amb una antiguitat suficient per a ser qualificat com a *històric*, atès que té 61 anys d'antiguitat. D'altra banda, hi ha un turisme que té 10 anys d'antiguitat, un altre que té 5 anys d'antiguitat, més una motocicleta amb 7 anys d'antiguitat i un autobús amb 8 anys d'antiguitat. S'ha de considerar que l'antiguitat de tots els vehicles es compta des de la data de la matriculació.

Quan hauran de passar la inspecció tècnica de vehicles periòdica (ITV) cadascun dels vehicles esmentats anteriorment?